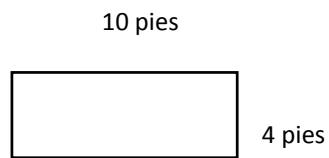


Jesús le dijo: Yo soy el camino, y la verdad, y la vida; nadie viene al Padre, sino por mí. Juan 14:6

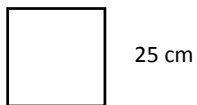
52 Perímetro de los cuadriláteros

1. Encontrar el perímetro de cada figura

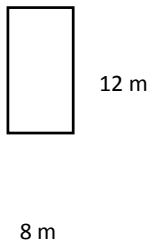
a)



b)



c)



2. Razonamiento

¿Es el perímetro de un cuadrado de lado 23 pulgadas más o menos de 100 pulgadas? Explique

3. Encuentre el perímetro del siguiente cuadrado usando suma y multiplicación.

