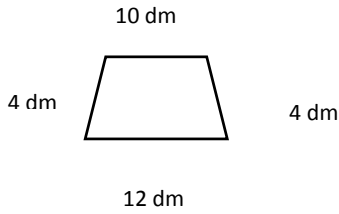


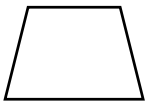
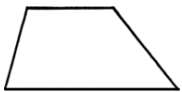
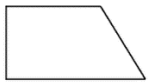
Jesús le dijo: Yo soy el camino, y la verdad, y la vida; nadie viene al Padre, sino por mí. Juan 14:6

49 Trapecios

1. Encontrar el perímetro del siguiente trapecio

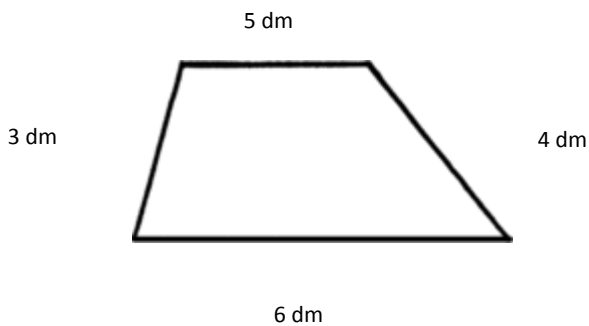


2. Une con una línea el trapecio según su clasificación



- a) Trapezoide Isósceles
- b) Trapezoide Rectángulo
- c) Trapezoide Escaleno

3. Seleccione la respuesta correcta



- a) 16 dm
- b) 18 dm²
- c) 18 dm

4. Complete

Escaleno Rectángulo Isósceles

El trapecioide que tiene todos sus lados y ángulos diferentes se llama _____

El trapecioide que tiene dos pares de ángulos iguales y dos lados iguales se llama _____

El trapecioide que dos ángulos de 90° se llama _____